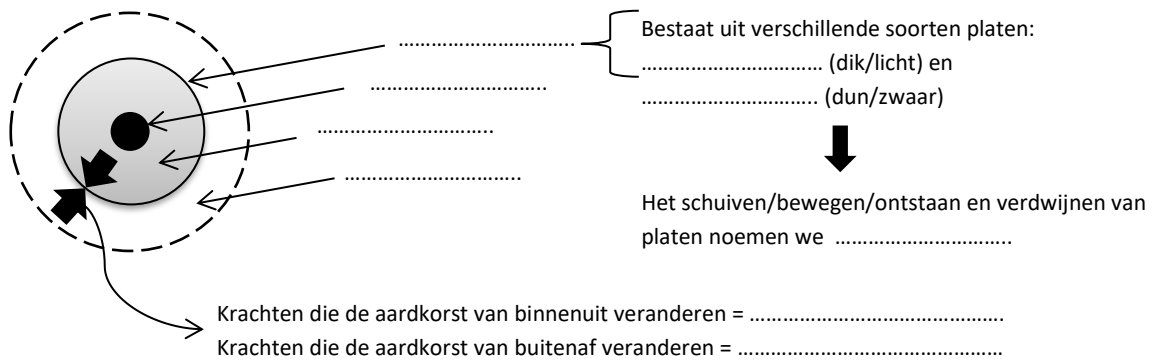
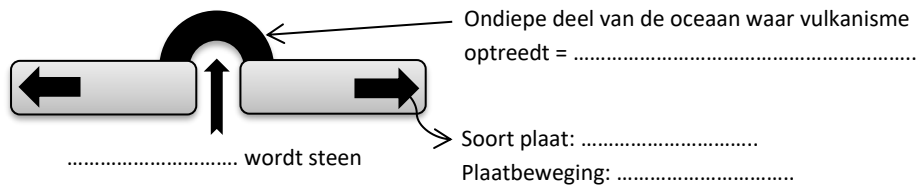


# Wat hebben we vóór de vakantie gedaan?

## 1) Vul in onderstaand schema de ontbrekende begrippen in.

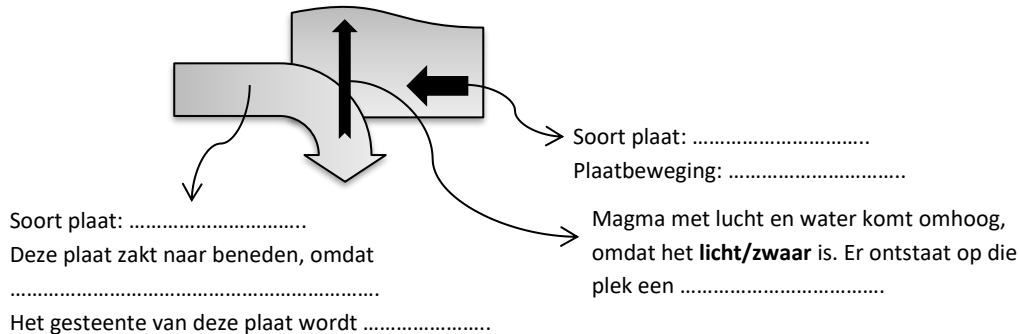


## 2) Vul in onderstaand schema de ontbrekende begrippen in.

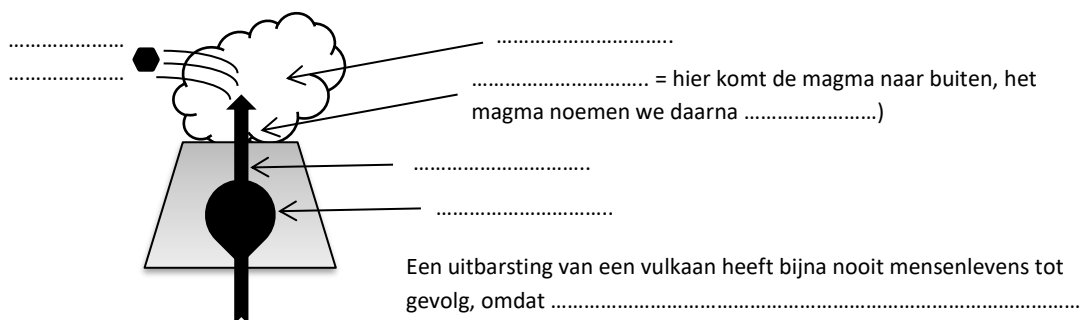


## 3) Vul in onderstaand schema de ontbrekende begrippen in.

We noemen onderstaand proces .....



## 4) Vul in onderstaand schema de ontbrekende begrippen in.

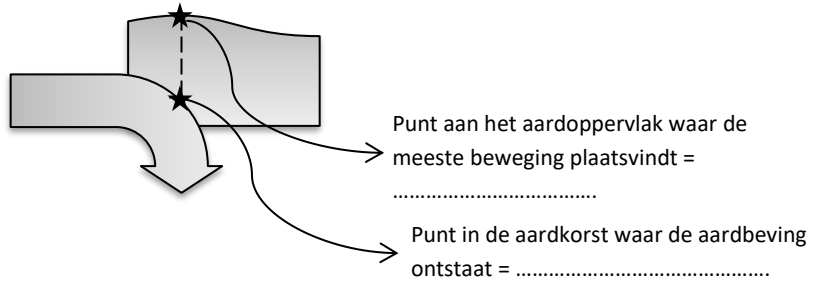


## 5) Vier voordelen van vulkanisme?

- 1) .....
- 2) .....
- 3) .....
- 4) Door vulkanisme ontstaan kostbare mineralen, zoals diamant.

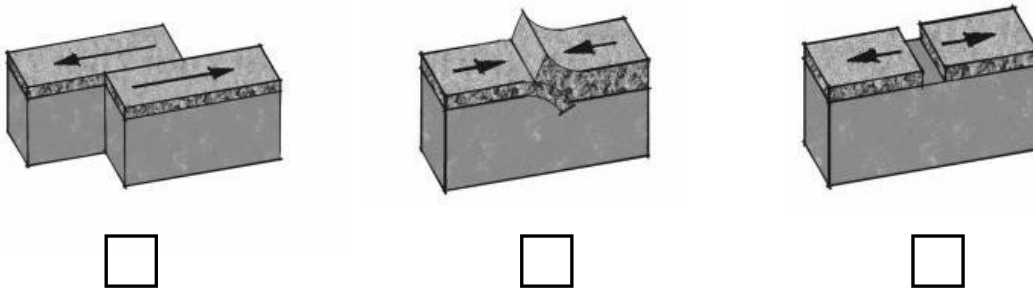
**6) Vul in onderstaand schema de ontbrekende begrippen in.**

Het schuiven van platen gaat met schokken. Elke schok noemen wij een ..... De zwaarte van deze natuurramp wordt aangeduid met een cijfer van 1 t/m 12. Dat is de Schaal van ..... Er is nog nooit een zwaardere aardbeving geweest dan 10.



**7) Zet de letters A t/m C van onderstaande zinnen bij de juiste plaatbeweging.**

- A) Ongevaarlijk vulkanisme en ongevaarlijke aardbevingen.
- B) Gevaarlijke aardbevingen, nauwelijks (bijna geen) vulkanisme.
- C) Gevaarlijke aardbevingen, veel vulkanisme.



**8) Streep de onjuiste woorden in onderstaande tabel door.**

Nieuw-Zeeland	Haïti
Lage / Hoge welvaart	Lage / Hoge welvaart
Weinig / Veel economische schade	Weinig / Veel economische schade
Weinig / Veel slachtoffers	Weinig / Veel slachtoffers

**9) Zet de letters A en B van onderstaande zinnen bij de juiste afbeelding.**

- A) Noodhulp = allereerste hulp die nodig is na een ramp om mensen te helpen overleven.
- B) Structurele hulp = blijvende hulp die nodig is na een ramp om mensen te helpen hun leven weer normaal te kunnen leven.

